



**PEMERINTAH PROVINSI KALIMANTAN TENGAH
DINAS PENDIDIKAN**

SEKOLAH KHUSUS NEGERI 1 KUALA PEMBUANG

Jl .A.Yani Kuala Pembuang (74212) skhn1kualapembuang.sch.id

slbn1kualapembuang@gmail.com Kalimantan Tengah



ASESMEN SUMATIF AKHIR SEMESTER 1

Tahun Pelajaran : 2025/2026
Mata Pelajaran : MATEMATIKA
Kelas :
Hari/Tanggal :
Waktu :
Nama :

I. TULISLAH LAMBANG BILANGAN DI BAWAH INI DENGAN BENAR !

1. **SEPULUH** =

2. **DUA BELAS** =

3. **TIGA BELAS** =

4. **EMPAT BELAS** =

5. **LIMA BELAS** =

6. **ENAM BELAS** =

7. **TUJUH BELAS** =

8. **DELAPAN BELAS** =

9. **SEMBILAN BELAS** =

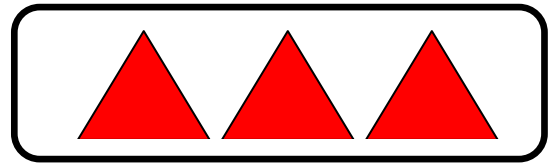
10. **DUA PULUH** =

II. BERILAH TANDA SILANG (X) HURUF A ATAU B PADA JAWABAN YANG BENAR !

1. Banyak benda di samping adalah

A. EMPAT

B. TIGA



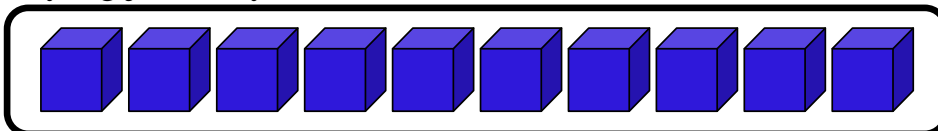
2. Bilangan **SEPULUH** di bawah ini adalah ...

A. 10

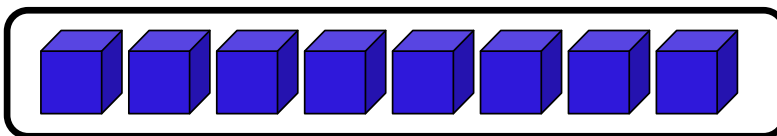
B. 11

2. Benda yang jumlahnya **SEPULUH** di bawah ini adalah

A.



B.



4. lambang bilangan **LIMA BELAS** di bawah ini adalah

A. 14

B. 15

5. Lambang bilangan **DUA PULUH** di bawah ini adalah

A. 20

B. 30

6. Benda yang jumlahnya **SEBELAS** di bawah ini adalah

A




B.



7. Gambar bangun datar di samping adalah...

A. Lingkaran.

B. Persegi.




8. Gambar **SEGI TIGA** di bawah ini adalah....

A.



B.



9. Gambar bangun datar di samping adalah....


A. Segi empat.

B. Persegi panjang.



10. Gambar bangun datar **PERSEGI PANJANG** dibawah ini adalah....

A



B.



III. JODOHKAN GAMBAR YANG SAMA DENGAN MENARIK GARIS.

