



**PEMERINTAH PROVINSI KALIMANTAN TENGAH
DINAS PENDIDIKAN**

SEKOLAH KHUSUS NEGERI 1 KUALA PEMBUANG

*Jl .A.Yani Kuala Pembuang (74212) skhn1kualapembuang.sch.id
sln1kualapembuang@gmail.com Kalimantan Tengah*



ASESMEN SUMATIF AKHIR SEMESTER 1

Tahun Pelajaran : 2025/2026
Mata Pelajaran : TIK
Kelas :
Hari/Tanggal :
Waktu :
Nama :

I. Berilah Tanda Silang (X) Huruf A, B Atau C Pada Jawaban Yang Paling Benar !

1. Sebuah peralatan elektronik yang terdiri dari beberapa komponen yang saling bekerja sama untuk menghasilkan berbagai informasi seperti yang diinginkan berdasarkan program dan data adalah

- A. komputer
- B. radio

2. Tiga (3) komponen dalam sistem komputer adalah

- A. hardware, Cpu, dan monitor
- B. hardware, software, dan brainware

3.  Simbol gambar disamping adalah tombol

- A. printer
- B. power

4. Contoh software (perangkat lunak) komputer adalah

A.



B.



5.  Kevin ingin mengetik, Kevin membuka aplikasi

- A. Microsoft Word
- B. Microsoft Exel


6. Untuk keluar dari aplikasi Microsoft Word kita klik icon

A.




B.



7.  Nama perangkat komputer di samping adalah

A. CPU

B. monitor

8.  Perangkat untuk mengetik menggunakan

A. mouse

B. keyboard

9.  Nama perangkat komputer di samping adalah


A. CPU

B. mouse

10. Untuk menyalakan komputer, diperlukan arus

A. listrik

B. kabel

11.  disamping berfungsi untuk


A. menutup aplikasi

B. menyimpan file

12. Hasil cetakan kita bisa di cetak melalui printer menggunakan media ...

A. kertas

B. plastik

13.  Alat yang berfungsi untuk menstabilkan arus listrik disebut

A. monitor

B. stabilizer

14. Untuk menyalakan/ mengaktifkan perangkat komputer, kita menekan tombol power yaitu





15. Untuk mencetak hasil pekerjaan kita menggunakan

- A. CPU
- B. printer

16. Untuk menebalkan huruf atau kalimat kita klik icon

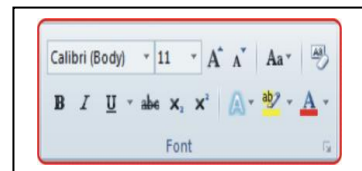
- A. **B**
- B. *I*

17. Untuk membuat paragraph rata kiri kita klik icon



18. Icon yang berfungsi untuk membuat efek miring pada huruf / kalimat adalah

- A. *I*
- B. **B**



19.  Gambar disamping adalah simbol icon

- A. rata kanan.
- B. tengah- tengah.

20. Untuk membuat efek garis bawah kita klik icon

- A. U
- B. **B**

21. Untuk membuat jarak antara kata menggunakan tombol

- A. Esc
- B. Space

22. Ikon printer adalah

A.



B.



23. Tombol **back space** berfungsi untuk

A. memberi jarak

B. menghapus karakter

24. Untuk mengetik kalimat dengan menggunakan huruf besar diawali dengan menekan tombol


A. Caps lock

B. Shift

25. Kabel berfungsi untuk.... perangkat computer

A. menghubungkan


B. merekatkan

26.  Nama tombol disamping adalah



A. Delete

B. Enter

27.  Nama tombol disamping adalah




A. Backspace

B. Caps Lock

28. Untuk *menghapus karakter* kita menekan tombol

A. Delete

B. Home

29.  Nama perangkat disamping adalah



A. Scanner

B. Monitor

30. Untuk menonaktifkan komputer kita klik

A. restart

B. shut down